

# 2023年度 入学試験問題

# 社 会

(1科目 100点 45分)

2023年2月9日(木) 4時限目実施

1. 試験開始の合図があるまで、この問題冊子の中を見てはいけません。
2. この注意事項は、よく読んでください。
3. 試験中に問題冊子の印刷不鮮明、ページの落丁・乱丁及び解答用紙の汚れ等に気付いた場合は、手を挙げて監督者に知らせてください。
4. 次のことには十分注意してください。
  - ① 解答用紙には、受験番号を記入することを忘れないこと。
  - ② 答えはすべて解答用紙に記入すること。
  - ③ 不正行為はしないこと。

解答については、間違いのないように十分注意し、記入してください。

東 奥 義 塾 高 等 学 校

# 1

次の文章を読み、それぞれの問いに答えなさい。

ヨーロッパ州は、ユーラシア大陸の西に位置し、全体的に日本より高緯度だが、大陸の東に位置する同緯度の地域と比べて冬が温暖で、年間の気温差が（ ① ）い。これは、大陸の西を流れる（ ② ）流の（ ③ ）洋海流と、その上空から大陸に吹く（ ④ ）風が寒さをやわらげるからである。⑤ヨーロッパの気候は南北で異なり、地中海から北上するにつれて気温は下がる。

多くの民族が住むヨーロッパでは、民族を基に国を造ってきた。⑥こうした民族は、使う言語によって大まかに分けられるが、大部分の言語は、基になっている言語が同じため、表現に共通性がある例も多く見られる。ヨーロッパでは、キリスト教が広く信仰され、日々の祈りやクリスマスの祝日のように、日常生活にも深く関係している。

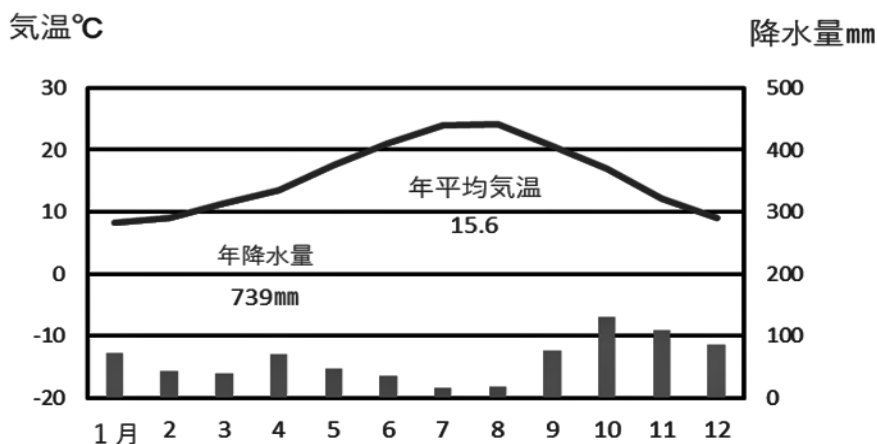
ヨーロッパでは、19世紀から工業の発展により、工場からの排水や排気で、河川や大気が汚染される問題が起こった。また、酸性雨の原因になる物質が風に乗って広がり、国境をこえた広い範囲で深刻な被害をもたらした。こうした⑦環境問題への対応には、国をこえた協力体制が必要であり、EUでは共通の取り組みを行っている。

また、EUでは、農薬の使用量を減らすといった、環境に配慮している農家に対して補助金を出すなど、農業や農村を持続する取り組みが重視されている。その一環として⑧国立公園などで自然を学習しながら楽しむ取り組みも、環境に配慮した、持続可能な観光として人気がある。また、EU加盟国では、火力や原子力にかわる、⑨風力などを利用した発電も、積極的に進められている。

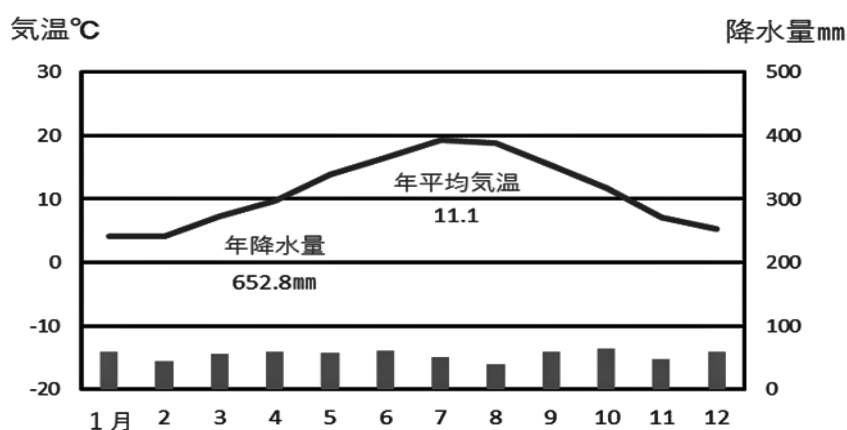
問1. 文中の空欄（ ① ）～（ ④ ）に適する語句を答えなさい。

問2. 文中の下線部⑤に関連して、次の雨温図X・Yはどの都市のものかを、次のア～エからそれぞれ選び、記号で答えなさい。なお、都市名の後ろのカッコ内は所在する国名である。

【 雨温図 X 】



【 雨温図 Y 】



(資料：2022 データブック オブ・ザ・ワールド)

- ア. ヘルシンキ (フィンランド)
- イ. ニース (フランス)
- ウ. パリ (フランス)
- エ. ブダペスト (ハンガリー)

問3. 文中の下線部⑥に関連して、下のA～Cは「おはよう」を表す各地域の言葉である。それぞれの言語系統かをア～エから選び、記号で答えなさい。なお、解答に使用していない選択肢も含まれているので注意すること。

- A グッドモーニング (Good morning)・グーテンモルゲン (Guten Morgen)
- B ドーブラエ ウートラ (Доброе утро)・ドブロ ウートロ (Добро утро)
- C ボンジュール (Bonjour)・ブオンジョルノ (Buon giorno)

- ア. ラテン系言語
- イ. スラブ系言語
- ウ. 東アジア系言語
- エ. ゲルマン系言語

問4. 文中の下線部⑦に関連して、「パークアンドライド」とは、どのような取り組みかを答えなさい。

問5. 文中の下線部⑧に関連して、このような取り組みを何ツーリズムというか。**カタカナ**で答えなさい。

問6. 文中の下線部⑨に関連して、太陽・風力・水力など繰り返し利用することが可能なエネルギーを何というか、語句を答えなさい。

## 2

次の文章A～Cを読み、それぞれの問いに答えなさい。

A 『週刊少年ジャンプ』（集英社）に2016年11号から2020年24号まで連載された、吾峠呼世晴（ごとうげ こよはる）氏による漫画作品『鬼滅の刃（きめつのやいば）』が空前の大ヒットを見せた。①日本の大正時代を舞台に、主人公の少年「竈門炭治郎（かまど たんじろう）」が鬼と化した妹「禰豆子（ねずこ）」を人間に戻すために鬼たちと戦う姿を描く物語で、②2019年にはテレビアニメ化され、2020年には劇場アニメが公開された。最近では、「鬼」という言葉が若者の間に浸透し、本来恐ろしいものや得体の知れないものに対して使われる言葉であるが、「鬼かわいい」や「鬼やばい」など、後に続く言葉を強調する言葉として使われるようになった。

では、「鬼」とは、一体いつ、どこで生まれたのだろうか。記録によると、字と概念は③古代中国から伝来したといわれ、④清朝中国時代の短編小説『聊齋志異（りょうさいしい）』の中に見ることができる。古代からの民間伝承をまとめたもので、本来は人が死んだ後になるもので、日本でいう幽霊に近いものとされている。

問1. 文中の下線部①に関連して、1917（大正6）年に、ロシアでは社会主義者レーニンの指導の下でロシア革命が起こった。この時退位したロシア帝国最後の皇帝を答えなさい。

問2. 文中の下線部②に関連して、100年前の1919年は、第一次世界大戦終了後のパリ講和会議が開かれた年である。このとき結ばれた講和条約を答えなさい。

問3. 文中の下線部③に関連して、下の表は、古代中国の時代と出来事をまとめたものである。表中の空欄（ア）～（エ）にあてはまるものを、それぞれ答えなさい。

時 代	出来事
秦	（ア）によって中国が統一される。
漢	武帝のとき中央アジアを含む大帝国を築く。貿易路である（イ）を使って中国から西方に絹織物など、西方から馬やブドウ、仏教などが伝わる。
隋	607年に日本からの遣隋使である（ウ）が来訪。
唐	（エ）などの法律をつくった。

問4. 文中の下線部④に関連して、20世紀初め、清を倒して漢民族の独立と近代国家の建設をめざし、三民主義を唱え革命の中心となった人物を答えなさい。

B 日本で鬼の記述が見られるのは⑤8世紀の『日本書紀』で、百済が唐と（⑥）の連合軍に敗れ、斉明天皇が飛鳥から九州へ援軍を送り、その地で崩御（天皇が亡くなること）、その葬儀の際の記述に見ることができる。そこには、“朝倉山の上に鬼ありて大笠を着て喪の儀（よそおい）を臨み視る”とある。また、“葦原の中つ国の邪鬼（あしきもの）”や“諸（もろもろ）のまつろわぬかみたち”などと記されている。もともと「鬼（モノ）」・「鬼神（カミ）」・「鬼（オニ）」は分別されておらず、のちに人間に益をもたらすものを「カミ」、害を及ぼすものを「オニ」と呼ぶようになったといわれている。

奈良時代には、⑦仏教の影響から鬼の視覚化が始まった。その元になったのは法隆寺金堂の四天王の足下にいる邪鬼である。インドにいた夜叉（やしや）や羅刹（らせつ）などが中国に入ったのちに日本に伝来したものと考えられている。さらに⑧鎌倉時代に入ると、疫病や、原因不明の命にかかわる恐怖を「鬼」と呼ぶようになり、様々なイメージを持った鬼が現れた。

問5. 文中の下線部⑤に関連して、8世紀の世界の出来事を述べた文として正しいものを、次のア～エのうちからひとつ選び、記号で答えなさい。

ア. 日本では桓武天皇が長岡京から平安京に都を移した。

イ. ローマ帝国が東西に分裂したのち、西ローマ帝国が滅んだ。

ウ. インドでは釈迦の教えから仏教が誕生した。

エ. アラビア半島に生まれたムハンマドは、ユダヤ教、キリスト教を基に、イスラム教の開祖となった。

問6. 文中の空欄（⑥）にあてはまる国を答えなさい。

問7. 文中の下線部⑦に関連して、9世紀初めに遣唐使とともに唐にわたり、仏教の新しい教えである天台宗と真言宗を伝えた人物**2人**を答えなさい。

- 問 8. 文中の下線部⑧に関連して、下の絵はモンゴルの襲来を描いたものである。これに関連した文として正しいものを、次のア～エのうちからひとつ選び、記号で答えなさい。



- ア. モンゴル民族を統一したチンギス=ハンは、高麗を従えて日本に攻めてきた。  
イ. 執権北条時宗は、2度にわたって攻めてきたモンゴル軍を打ち破った。  
ウ. バスコ=ダ=ガマが元にやってきて、フビライ=ハンに仕えた。  
エ. モンゴルの襲来において、海での戦いを制したのは倭寇であった。

C ⑨戦国時代から⑩江戸時代に入ると⑪木版印刷が発達し、絵入りの本が読まれ、鬼のイメージもわかりやすくなった。1781年の『桃太郎一代記』の中で登場する鬼は、虎の褌（ふんどし）、角があり、金棒を持っている姿で、現在の鬼に対するイメージが作られた。その後、得体の知れない恐怖であった鬼は、目に見えるようにすることで少しずつ姿を変え、ひとつのキャラクターとして人々の間に伝わっていった。

⑫国家体制の反対者などを「鬼」として征伐する時代もあったが、結局「鬼」の生まれる場所は「人の心」だという。⑬室町時代に活躍し『風姿花伝』を著わした世阿弥（ぜあみ）の言葉に、“形は鬼なれども心は人なるがゆえに”というのがある。『鬼滅の刃』に登場する数々の鬼も、もともとは人間であり、その心の悲しみや闇を知るに、読者は鬼にも心を寄せ、物語の幅を広くしているのであろう。


また、地方信仰の中に、鬼とともに生き、鬼を神として祀っている地域もある。⑭弘前市鬼沢地区には鬼神社が存在し、鬼のおかげで栄えたという伝承がある。干ばつで困った村人たちのために、1日で2里（8km）もの水路を開いてくれたという「鬼神堰（きじんぜき）」が今でも残っている。

問9. 文中の下線部⑨に関連して、この時代に登場した織田信長と豊臣秀吉について述べた文のうち誤りを含むものを、次のア～エのうちからひとつ選び、記号で答えなさい。

- ア. 尾張の大名だった織田信長は、駿河の大名今川義元を桶狭間の戦いで破って勢力を広げた。
- イ. 織田信長は、城下町に楽市・楽座をもうけ、自由な商業の発展を図った。
- ウ. 織田信長の家臣であった豊臣秀吉は、全国を統一したのち太閤検地を行い、ものさしやますを統一した。
- エ. 全国を統一した豊臣秀吉は、兵農一致の政策をとり、より強力な武力で外国勢力に対抗した。

問10. 文中の下線部⑩に関連して、江戸時代に起こった世界の出来事について、次の設問1～設問3に答えなさい。


設問1 右の絵の人物は、フランス革命を終わらせて1804年に皇帝の座についた人物である。名前を答えなさい。



設問2 清との貿易の赤字を解消しようとおこなった三角貿易で、清にアヘンを持ち込み習慣化させ、それを厳しく取り締まった清に対して戦争を起こした国はどこか、国名を答えなさい。

設問3 1854年、アメリカと取り交わした日米和親条約において、2つの港を開港することになった。その**2つ**を答えなさい。

問1 1. 文中の下線部⑪に関連して、木版印刷の発達によって、浮世絵の技術も進み、錦絵と呼ばれる多色刷りの版画が流行した。ヨーロッパの絵画にも大きな影響を与えた下の風景画『富嶽三十六景神奈川沖浪裏』を描いた人物として正しいものを、次のア～エのうちからひとつ選び、記号で答えなさい。



- ア. 東洲斎写楽
- イ. 喜多川歌麿
- ウ. 葛飾北斎
- エ. 歌川広重

問1 2. 文中の下線部⑫に関連して、第一次世界大戦終了後のドイツに登場し、ドイツの失業問題を解決しながらも、ユダヤ人や体制の反対者に容赦なく虐待を加えたナチスの総統は誰か。名前を答えなさい。

問1 3. 文中の下線部⑬に関連して、室町時代、ヨーロッパでは古代の文化を手がかりに、人間についての新しい考え方を探り、人間の生き生きとした姿を文学や美術で描き始めた。こうした文芸復興を何というか。**カタカナ5字**で答えなさい。

問1 4. 文中の下線部⑭に関連して、弘前市の初代市長は、菊池九郎（くろう）である。彼は東奥義塾の前身である稽古館（けいこかん）に学び、慶應義塾に入った。その慶應義塾を創設し、『学問のすゝめ』を著わした人物は誰か。名前を答えなさい。



### 3

次の文章を読み、それぞれの問いに答えなさい。

私たちは、家庭や学校、会社など、さまざまな集団に所属して生きている。私たちが集団の中で生活するためには、個人と個人、集団と集団の間のさまざまな意見の対立を調整し、争いを解決して、安全で平和な社会を作らなければならない。そこでは社会秩序が作られ、これを維持するために、秩序に従わない者には強制力が必要となる。この社会的な強制力を権力といい、権力をともなう営みが、広い意味での政治である。

①1 人または少数が権力者となり、政治を行う方法もある。しかし、現在多くの国々では、国民主権の考え方の下で、②国民または国民によって選ばれた代表者が権力を行使し、国民全体のために政治を行うという、民主主義が採用されている。

民主主義を採用するうえでは、人々が直接話し合いに参加する直接民主制もある。しかし、一度に大勢の人々が集まるのは様々な面から困難であり、話し合うことにも適さない。そのため、多くの国々では選挙によって選ばれた代表者が集まって議会を作る、間接民主制が採られている。

議論のすえに意見がまとまらない場合には、多数の意見を採用する③多数決の原理が広く用いられている。その際、異なる意見の人々も多数の意見に従うことになる。

民主主義を効果があるものにするためには、私たち一人ひとりの積極的な政治参加が必要だ。そのなかでも選挙は、間接民主制を採る民主主義国家において、主権者である国民が民意を政治に反映させる重要な機会である。選挙権年齢はこれまで満 20 歳以上とされてきたが、2016（平成 28）年から満 18 歳以上に引き下げられた。

代表選出の方法は、大きく小選挙区制と大選挙区制とに分けられる。小選挙区制は 1 選挙区から 1 人の代表を選出する方法で、大選挙区制は 1 選挙区から 2 人以上の代表を選出する方法である。また、得票に応じてそれぞれの政党の議席数を決める比例代表制がある。一般に、小選挙区制は多数派の政党に有利であり、少数派は議席を獲得しにくく、二党制（二大政党制）による安定した政治になりやすい。しかし、④落選して議席を得られなかった政党や候補者に寄せられた票が多くなることもあり、投票した人々の多様な意思が反映されにくいという特徴をもっている。

⑤日本での選挙の方法は、法律で定められている。衆議院議員の選挙（総選挙）には、⑥小選挙区制と全国を 11 のブロックに分けて行う⑦比例代表制とを組み合わせ、小選挙区比例代表並立制が採られている。参議院議員の選挙は、一つあるいは二つの都道府県の単位で、1 回に 1 人から 6 人の代表を選ぶ選挙区制と、全国を一つの単位とした比例代表制とで行われる。

選挙や議会では、政党が重要な役割を果たす。特に国の政治では、議会の議員の多くが政党に所属しており、いくつかの政党が議席を争う政党政治が行われている。政党は、選挙でできるだけ多くの議席を得ようとする。首相がいる国では多くの場合、議会の選挙で最も多くの議席を得た政党の党首が首相になり、内閣を作る。内閣を作って政権を担当する政党を（ ⑧ ）といい、それ以外の政党を（ ⑨ ）という。一つの政党だけで議席が過半数に達しないときは、内閣が複数の政党によって作られることもある。このような政権を⑩連立政権（連立内閣）という。

- 問 1 . 文中の下線部①に関連して、下の写真はある国における革命前の社会状況を風刺した版画である。ある国とはどこか、国名を答えなさい。



- 問 2 . 文中の下線部②に関連して、1863年に「ゲティスバーグの演説」を通じ、民主主義の理念の重要性を国民にうったえたアメリカ大統領の名前を答えなさい。
- 問 3 . 文中の下線部③に関連して、多数決の原理を採用する際に必要な態度として最もふさわしいものを次のア～エからひとつ選び、記号で答えなさい。
- ア. 多数派が少数派を従わせ、少数派の意見を無視する強い権力を発揮する必要がある。
  - イ. 多数派が少数派に従い、少数派の意見を強く政治に反映させる必要がある。
  - ウ. 多数派が少数派の意見を十分に聞き、少数派の意見を尊重する必要がある。
  - エ. 多数派と少数派が、ほぼ同じ数量の意見を政治に反映させる必要がある。
- 問 4 . 文中の下線部④に関連して、このような票を何というか。語句を答えなさい。
- 問 5 . 文中の下線部⑤に関連して、この法律を何というか。語句を答えなさい。

問 6. 文中の下線部⑥に関連して、次の設問 1・設問 2 に答えなさい。

設問 1 表 1 を小選挙区制における投票結果とする。この結果から当選する者をすべて、1 区から 4 区の順に A～P の記号で答えなさい。

表 1

1 区	候補者	A	B	C	D	
有権者数 380 (千人)	得票数 (千票)	110	95	39	3	
2 区	候補者	E	F	G	H	
有権者数 720 (千人)	得票数 (千票)	150	28	98	120	
3 区	候補者	I	J	K		
有権者数 445 (千人)	得票数 (千票)	115	140	12		
4 区	候補者	L	M	N	O	P
有権者数 550 (千人)	得票数 (千票)	120	154	56	40	4

設問 2 上の表 1 について、1 区～4 区の選挙区のうち、投票率（有権者数に対する投票者数の割合）が最も高い選挙区を答えなさい。ただし、各選挙区の投票者数は得票数の合計に等しいものとする。

問 7. 文中の下線部⑦に関連して、表 2 を比例代表における定数が 5 議席の選挙区の投票結果とするとき、各政党に配分される議席の数をそれぞれ答えなさい。ただし、議席の配分は「ドント式」によるものとする。

表 2

政党名	得票数 (千票)
りんご党	512
めろん党	330
ぶどう党	265
もも党	173

問 8. 文中の空欄 ( ⑧ ) に適する語句を答えなさい。

問 9. 文中の空欄 ( ⑨ ) に適する語句を答えなさい。

問 10. 文中の下線部⑩に関連して、日本の政党の状況に関する記述として最もふさわしいものを次のア～エからひとつ選び、記号で答えなさい。

- ア. 1955年に自由民主党が結成されてから、日本では自由民主党と日本社会党（1996年から社会民主党）が政権交代を繰り返してきた。
- イ. 1990年代以降、日本では単独政権よりも連立政権の事例が多い。
- ウ. 2009年に行われた総選挙では、公明党が最も多くの議席を得た。
- エ. 政権獲得後に公約を果たせない可能性があることから、政党は政権公約を公表しない場合が多い。

## 4

次の文章を読み、それぞれの問いに答えなさい。

資本主義社会の下で、人々は病気・労働災害・障がい・失業・老齢・扶養など、生活をおびやかす多くのリスクと隣り合わせに過ごしている。社会保障はこのような社会的不安から人々を守り、最低限度の生活を公的に保障することを目的としている。

日本の社会保障制度は、日本国憲法が定める生存権の考え方にに基づき、①社会保険、公的扶助、社会福祉、公衆衛生の四つを基本的な柱としている。

少子高齢化は、社会保障制度に大きな影響をあたえている。高齢化によって年金などの支払い額が増加する中、保険料を負担する現役世代の人口は少子化で減少するため、現役世代一人当たりの保険料が増える。一方で、現役世代の負担を大きくしすぎないように社会保険は税金からも負担されていて、こちらも増加している。

日本は、少子高齢化に対応するため、②介護保険制度と後期高齢者医療制度を導入している。

国民皆保険、国民皆年金が実現した日本の社会保険制度にも課題がある。少子高齢化の影響で、社会保険が将来にわたって持続できるかが大きな課題であり、支払の増加に合わせて、保険料や税の負担を増やすのか、負担を一定に保って支払いを減らすのかという選択をせまられている。

社会保障と財政との関係は、社会保障を充実させる代わりに税金などの国民の負担を大きくする場合と、社会保障を縮小させる代わりに国民の負担を軽くする場合とが考えられる。世界の各国においては、③国民所得にしめる社会保障支出の割合によってそれぞれの対応を知ることができる。

日本では社会保障費の増加に対応するため、2019年に消費税率が引き上げられた。現在の日本にとって、社会保障の充実と経済成長とをどのように両立させていくかが、大きな課題となっている。

問1. 文中の下線部①に関連して、次の表3は日本の社会保障制度を表にまとめたものである。表3中の空欄( ① )～( ④ )にあてはまるものを次のア～エからそれぞれ選び記号で答えなさい。

表3

種類	仕事の内容
社会保険	医療保険、介護保険、年金保険、( ① )保険、労災保険
公的扶助	( ② )保護
社会福祉	高齢者福祉、( ③ )福祉、障がい者福祉、母子・父子・寡婦福祉
公衆衛生	( ④ )対策、上下水道整備、廃棄物処理、公害対策など

ア. 生活

イ. 感染症

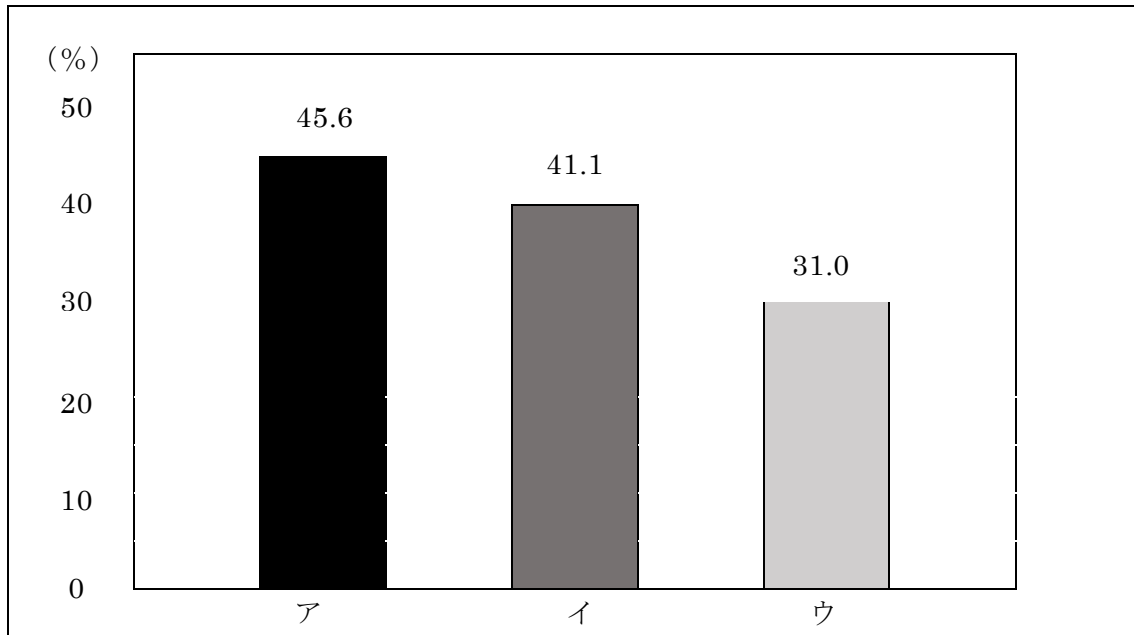
ウ. 児童

エ. 雇用

問2. 文中の下線部②に関連して、加入が義務付けられているのは何歳以上か。数字で答えなさい。

問3. 文中の下線部③に関連して、下のグラフ1のア～ウは、それぞれ日本、フランス、スウェーデンのいずれかの国の、2017年度の国民所得（NI）にしめる社会支出（注1）（経済協力開発機構[OECD]基準）の割合を示している。日本、フランス、スウェーデンのそれぞれにあてはまるものを、ア～ウから選びなさい。

グラフ1



2017年度 国民所得（NI）にしめる社会支出（注1）の国際比較

注1：社会支出には、社会保障給付費に加えて、施設整備費等の個人に帰着しない支出も集計範囲に含むが、本問いでは社会保障支出として扱うことを前提とする。  
（国立社会保障・人口問題研究所「令和元（2019）年度 社会保障費用統計（概要）」より作成）

2023年度 東奥義塾高等学校 入学試験 社会科 解答用紙

1	問1				
	①	い	②	③	④
	問2		問3		
	X	Y	A	B	C
	問4				
	問5		問6		

※1

2	問1		問2			
			条約			
	問3					
	ア	イ	ウ	エ		
	問4		問5	問6		問7
	問8		問9			
	問10					
	設問1	設問2		設問3		
問11		問12	問13		問14	

※2

3	問1		問2		問3	問4		問5		
	問6									
	設問1	1区	2区	3区	4区	設問2	区			
	問7									
	りんご党	議席	めろん党	議席	ぶどう党	議席	もも党	議席		
問8			問9			問10				

※3

4	問1				問2	
	①	②	③	④	歳以上	
	問3					
	日本		フランス		スウェーデン	

※4

受験番号

※合計